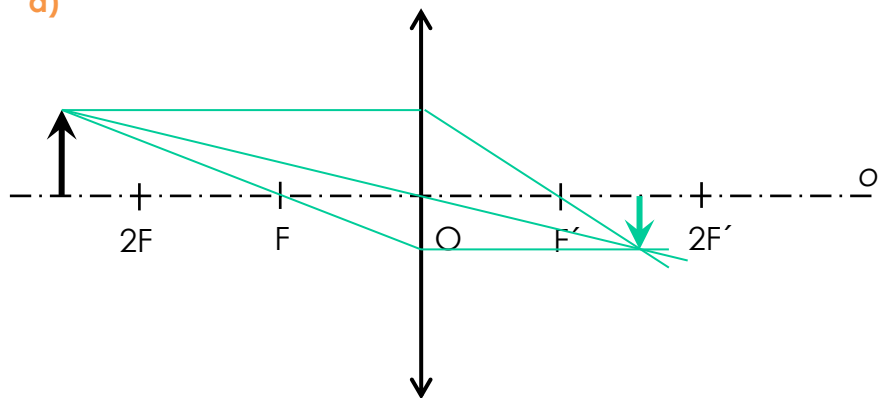


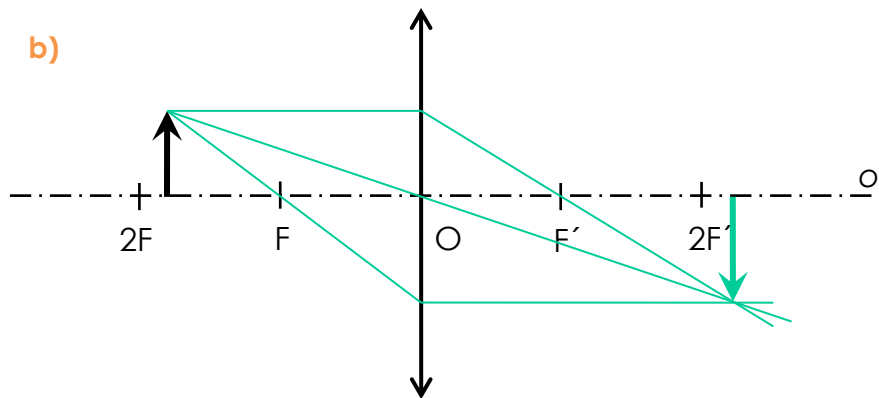
Zobrazovanie spojku

Zostroj obrazy predmetov a vyplň tabuľku.

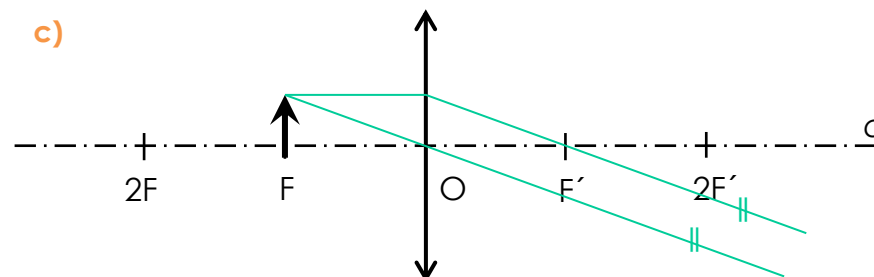
a)



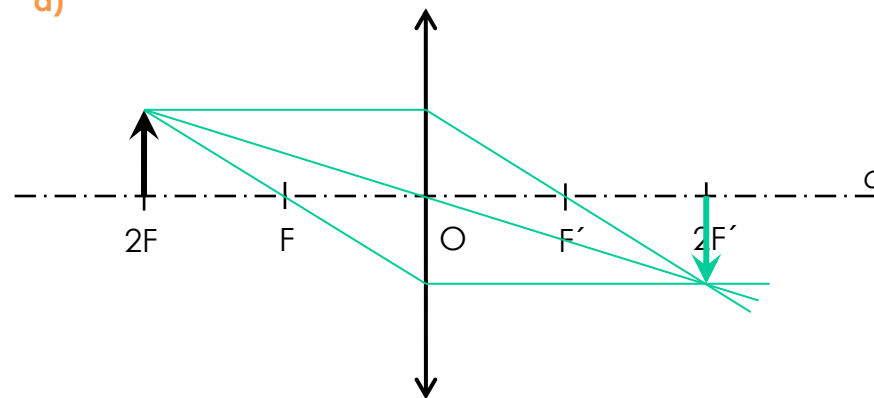
b)



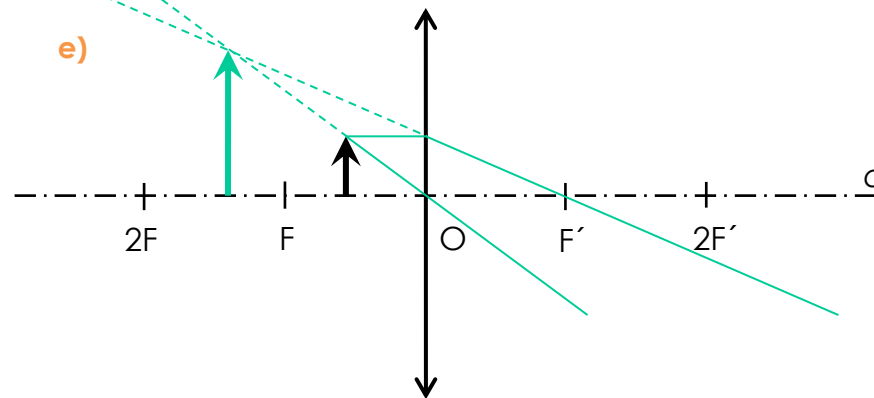
c)



d)



e)



Poloha predmetu od šošovky	Poloha obrazu	Vlastnosti obrazu
a) vo vzdialenosti väčšej ako $2f$	je vo vzdialenosti väčšej ako f a menšej ako $2f$	je skutočný, prevrátený, zmenšený
b) vo vzdialenosti väčšej ako f a menšej ako $2f$	je vo vzdialenosti väčšej ako $2f$	je skutočný, prevrátený, zväčšený
c) vo vzdialenosti f	v nekonečne	-
d) vo vzdialenosti $2f$	je vo vzdialenosti $2f$	je skutočný, prevrátený, rovnako veľký
e) vo vzdialenosti menšej ako f	je v predmetovom priestore je	je neskutočný, priamy, zväčšený

