

Násobenie a delenie spamäti

1 Vynásob.

$3 \cdot 8 =$

$9 \cdot 7 =$

$7 \cdot 8 =$

$6 \cdot 7 =$

$5 \cdot 5 =$

$8 \cdot 4 =$

$9 \cdot 2 =$

$7 \cdot 3 =$


$5 \cdot 4 =$

$4 \cdot 6 =$


$5 \cdot 8 =$



2 Napíš, koľkokrát je to viac.

 je -krát viac ako .

 je -krát viac ako .

 je -krát viac ako .

 je -krát viac ako .

 je -krát viac ako .

 je -krát viac ako .

3 Daný je počet rovnakých mincí či bankoviek. Koľko je to eur?

| Kusov |  |  |  | Kusov |  |  |  |
|-------|---|---|---|-------|--|---|---|
| 4 | 8 | 80 | 800 | 3 | | | |
| 6 | | | | 5 | | | |
| 7 | | | | 8 | | | |
| 9 | | | | 10 | | | |

4 Násob po dvojiciach.

$7 \cdot 4 =$

$5 \cdot 6 =$

$8 \cdot 2 =$

$3 \cdot 9 =$

$7 \cdot 40 =$

$5 \cdot 60 =$

$8 \cdot 20 =$

$3 \cdot 90 =$

$8 \cdot 9 =$

$4 \cdot 4 =$

$6 \cdot 7 =$

$5 \cdot 2 =$

$80 \cdot 9 =$

$40 \cdot 4 =$

$60 \cdot 7 =$

$50 \cdot 2 =$

5 Zuzka si každý mesiac z vreckového odkladá 4 eurá. Koľko eur si takto odloží za rok? Je to viac ako 50 eur?

6 Sčítaj.

a) $250 + 90$

$680 + 50$

$380 + 60$

$480 + 72$

$190 + 67$

$730 + 82$

b) $360 + 54$


$830 + 95$

$170 + 56$

$270 + 36$

$540 + 74$

$450 + 83$

 Dopln. Na políčkach rovnakej farby sú rovnaké čísla.

a)

$1\ 357 + 838 =$

$- = 1\ 827$

$+ =$

b)

$794 + 2\ 607 =$

$- 1\ 923 =$

$519 + =$

$- =$